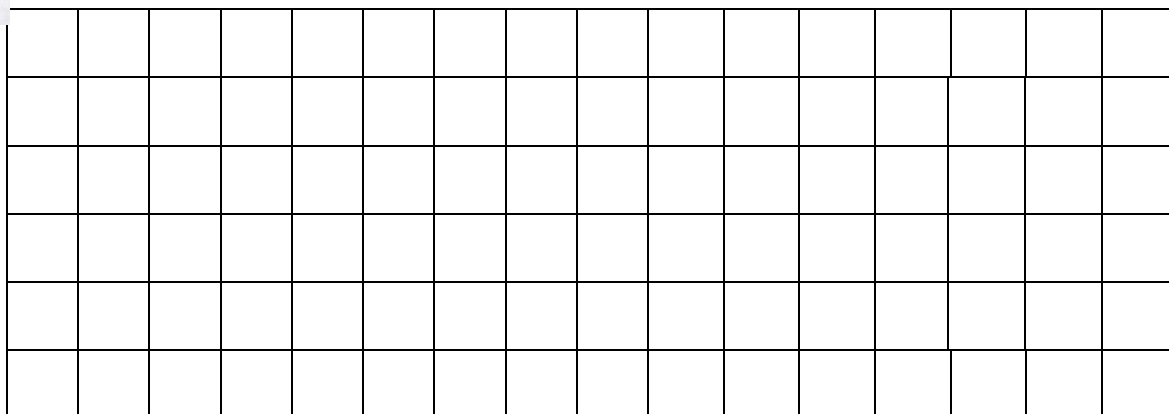


3. Να κατασκευάσεις 3 διαφορετικά ορθογώνια, που το καθένα να έχει περίμετρο 16 εκατοστόμετρα.



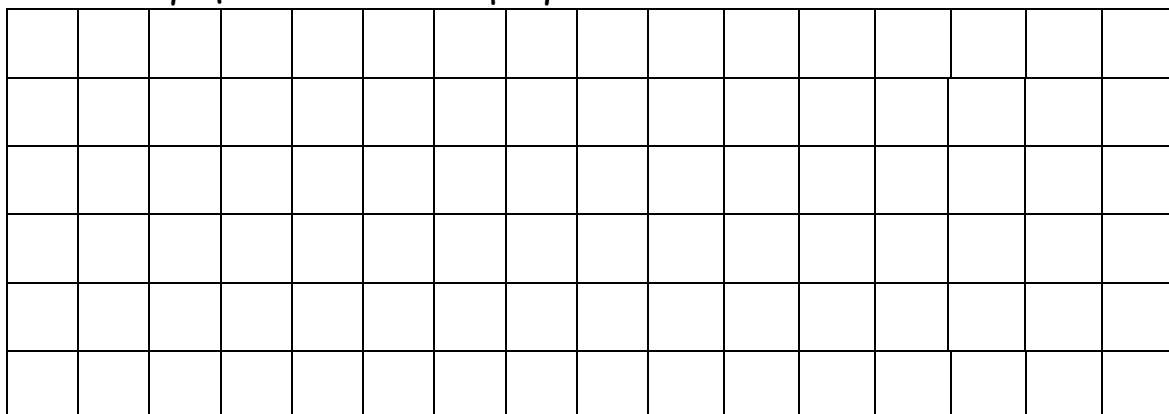
A) Σχεδίασε τα ορθογώνια στο χαρτί και γράψε τις διαστάσεις τους (μήκος και πλάτος).



B) Να γράψεις τις διαστάσεις των ορθογωνίων που κατασκεύασες στον πιο κάτω πίνακα.

Μήκος	Πλάτος	Περίμετρος

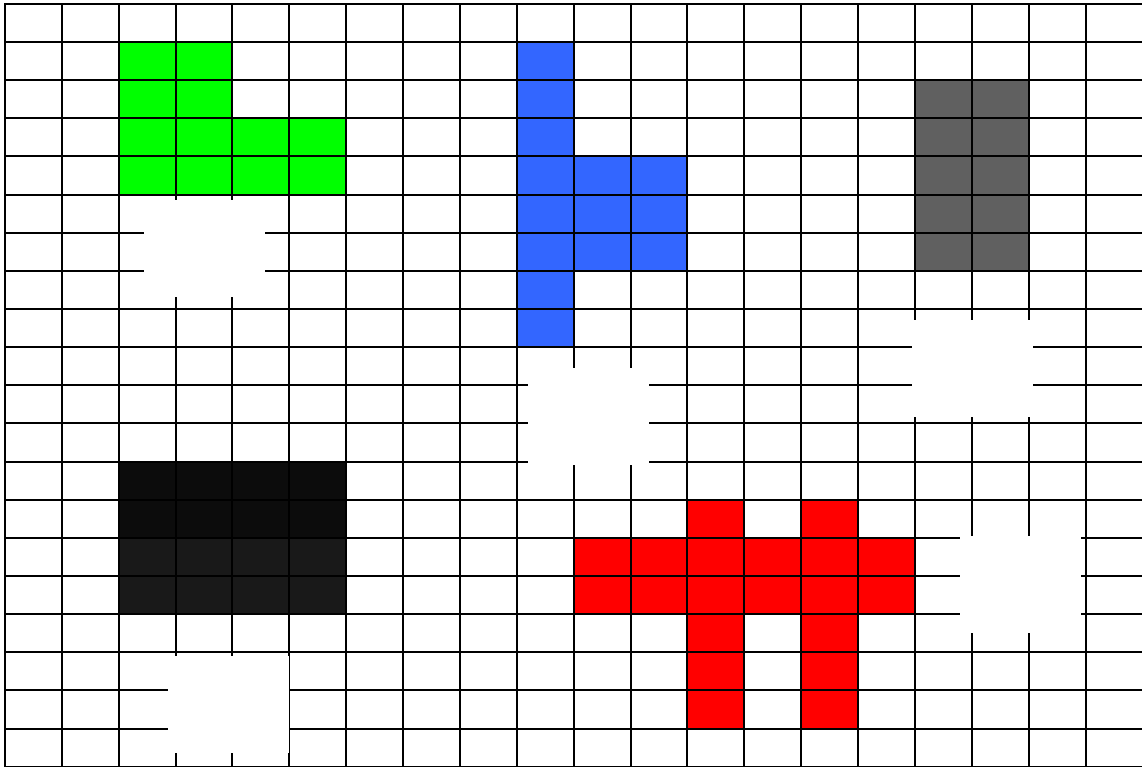
4) Να φτιάξεις 3 διαφορετικά σχήματα που να έχουν εμβαδό 12 τετραγωνικά εκατοστόμετρα.



Τάξη Γ
Μαθηματικά - Ενότητα 5
ΠΕΡΙΜΕΤΡΟΣ ΚΑΙ ΕΜΒΑΔΟ

Όνομα:.....

1. Γράψε το εμβαδό του κάθε σχήματος



2. Φτιάξε 2 τετράγωνα

