




ΔΗΜΟΤΙΚΟ ΣΧΟΛΕΙΟ

Όνομα: _____ Τάξη: _____

1. Γράφω τη μαθηματική πρόταση που ταιριάζει.




$$\square + \square + \square + \square = \square$$

$$\square + \square = \square$$

$$\square \times \square = \square$$

$$\square \times \square = \square$$





$$\square + \square = \square$$

$$\square + \square + \square = \square$$

$$\square \times \square = \square$$

$$\square \times \square = \square$$





$$\square + \square = \square$$

$$\square \times \square = \square$$

$$\square + \square + \square + \square + \square = \square$$

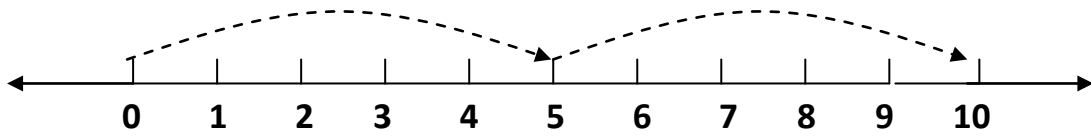
$$\square \times \square = \square$$



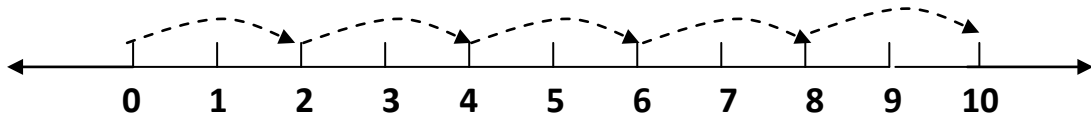
$$\square + \square = \square$$
$$\square \times \square = \square$$

$$\square + \square + \square + \square + \square + \square = \square$$

$$\square \times \square = \square$$



$$\square + \square = \square$$
$$\square \times \square = \square$$



$$\square + \square + \square + \square = \square$$

$$\square \times \square = \square$$

2. Ζωγραφίζω 2 λουλούδια σε κάθε βάζο και γράφω τη μαθηματική πρόταση.



$$\square + \square = \square$$

$$\square \times \square = \square$$

3. Ζωγραφίζω 2 μήλα σε κάθε πιάτο και γράφω τη μαθηματική πρόταση.



$$\square + \square + \square = \square$$

$$\square \times \square = \square$$

4. Λύνω τα προβλήματα:

Ο Περικλής έχει στρατιωτάκια. Τα έβαλε σε δύο σειρές. Σε κάθε σειρά έβαλε 7 στρατιωτάκια. Πόσα είναι τα στρατιωτάκια του;

Εξίσωση: _____

Απάντηση: _____

Η Ιωάννα αγόρασε 2 αρκουδάκια που στοίχιζαν 5 ευρώ το καθένα. Πόσα πλήρωσε;

Εξίσωση: _____

Απάντηση: _____

Οι κοτούλες της γιαγιάς γέννησαν αυγά. Η γιαγιά έβαλε 8 αυγά σε 2 σακουλάκια. Πόσα αυγά γέννησαν οι κοτούλες της γιαγιάς;

Εξίσωση: _____

Απάντηση: _____