



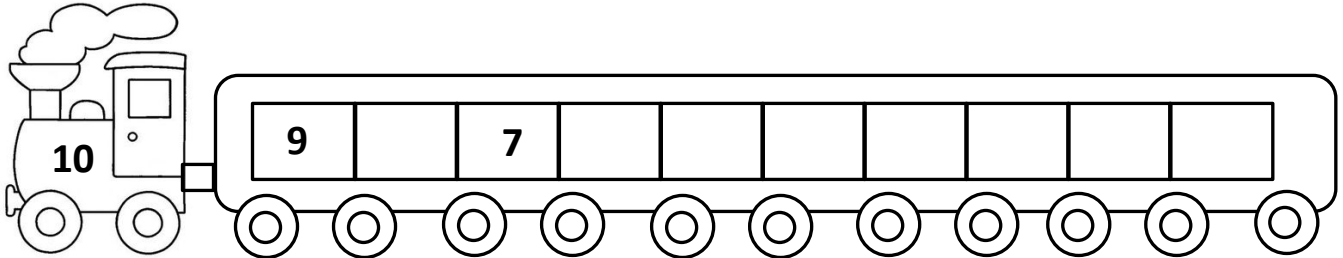



ΔΗΜΟΤΙΚΟ ΣΧΟΛΕΙΟ .....

Όνομα: \_\_\_\_\_ Τμήμα: \_\_\_\_\_

### Εξάσκηση στην πρόσθεση και αφαίρεση μέχρι το 10

1. Συμπλήρωσε τους αριθμούς που λείπουν από τα τρενάκια:



2. Βοήθησε τον κροκόδειλο να φάει τον πιο μεγάλο αριθμό χρησιμοποιώντας τα σύμβολα  $>$ ,  $<$ ,  $=$ .



4 .....	8	5 .....	7	8 .....	8	7 .....	9
2 .....	1	9 .....	3	10 .....	0	6 .....	9
5 .....	5	3 .....	5	4 .....	4	8 .....	3

3. Ας θυμηθούμε τις πιο κάτω προσθέσεις:

$3 + 1 =$

$2 + 2 =$

$4 + 2 =$

$5 + 3 =$

$4 + 5 =$

$2 + 3 =$

$3 + 3 =$

$2 + 5 =$

$4 + 3 =$

$2 + 4 =$

$4 + 6 =$

$1 + 5 =$

$6 + 2 =$

$4 + 4 =$

$1 + 3 =$

$2 + 7 =$

$5 + 2 =$

$7 + 3 =$

$8 + 1 =$

$1 + 1 =$

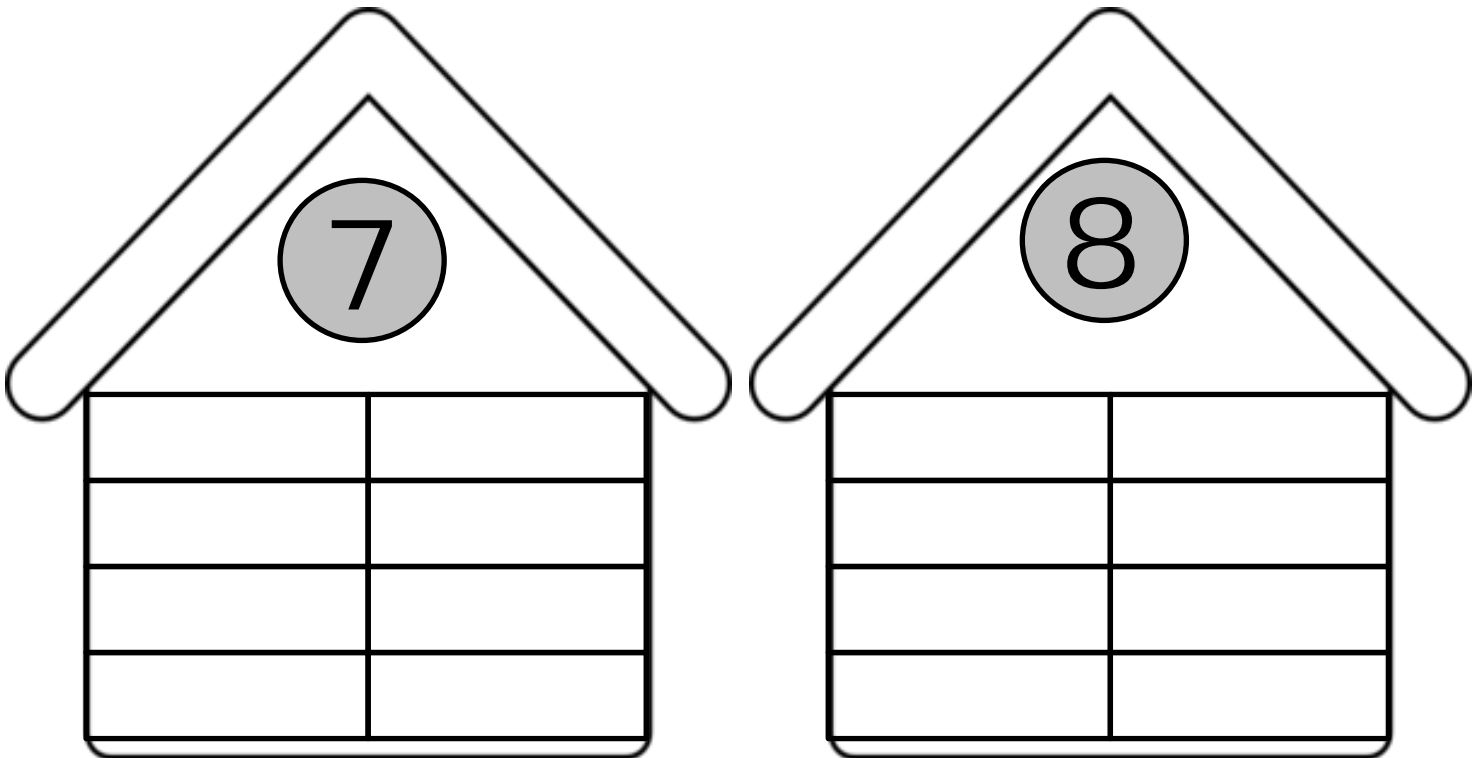
$5 + 5 =$

$7 + 1 =$

$0 + 2 =$

$9 + 1 =$

4. Προσπάθησε να θυμηθείς όσο πιο πολλά ζευγαράκια με άθροισμα...



5. Λύσε το πιο κάτω πρόβλημα:

Η Έλενα έχει 4 μολύβια. Της έδωσε η δασκάλα της ακόμη 2 μολύβια.  
Πόσα μολύβια έχει τώρα η Έλενα;

Εξίσωση: \_\_\_\_\_

Απάντηση: \_\_\_\_\_