





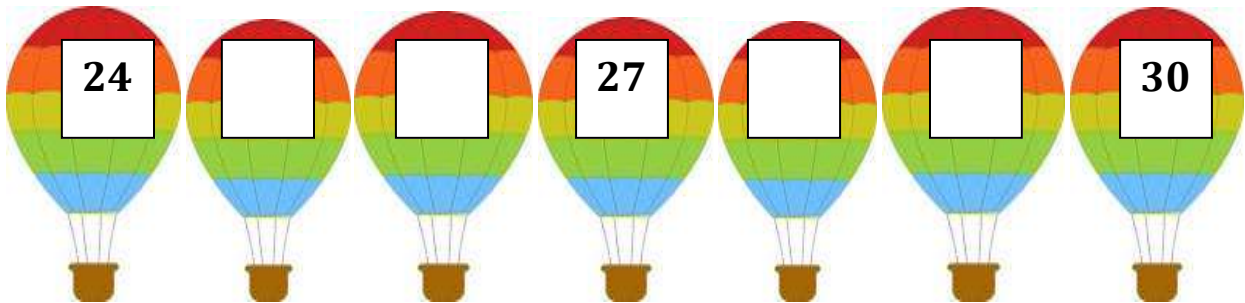
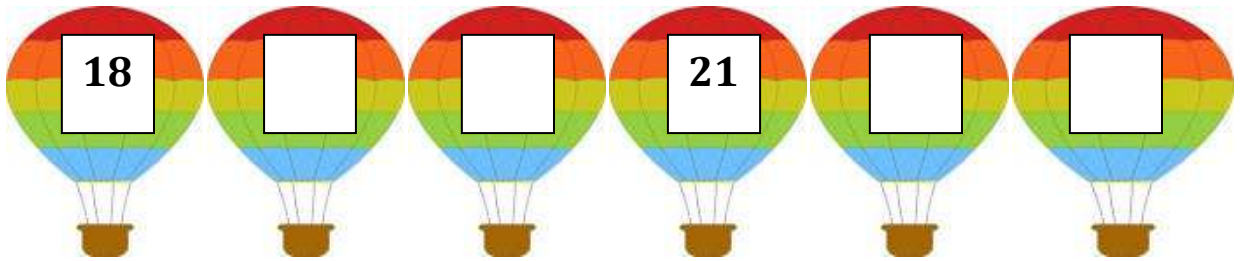
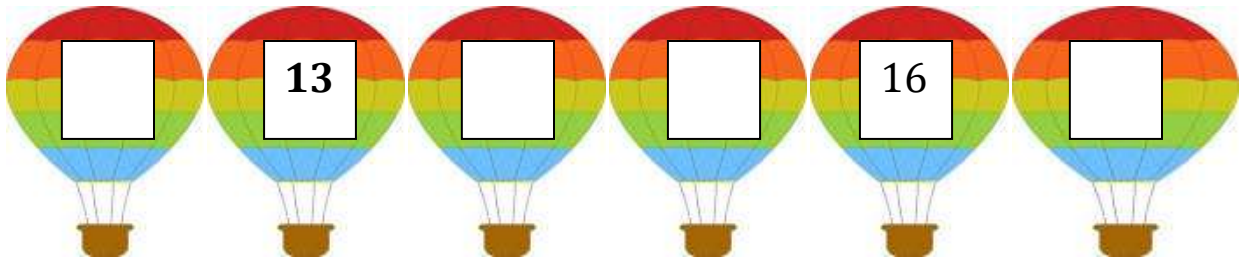
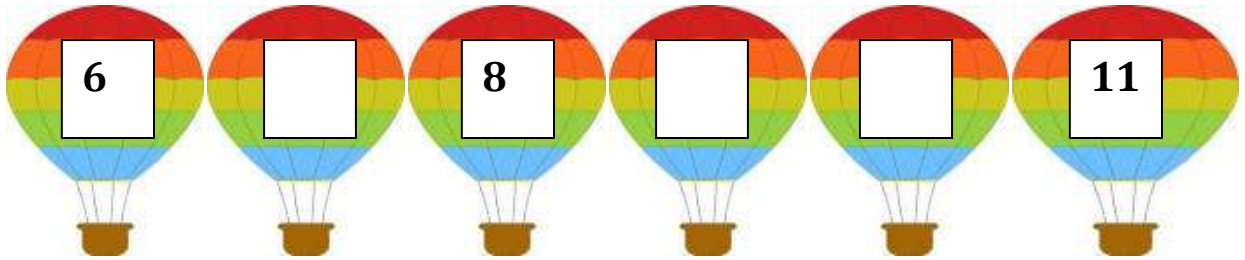
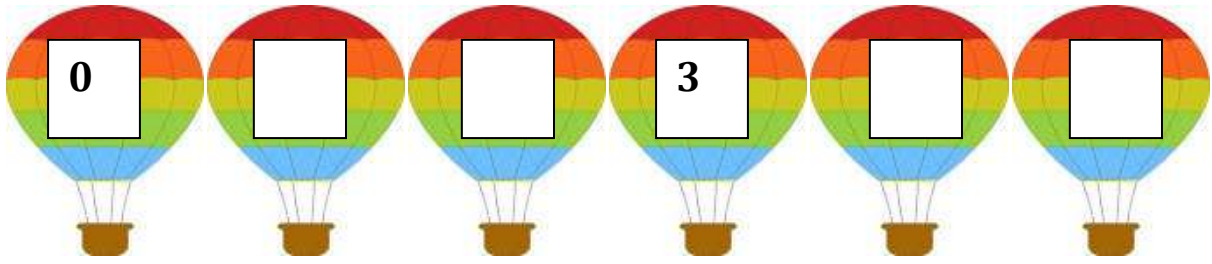
**Ώρα για
εξάσκηση
!**

Όνομα _____ Επίθετο _____

Οι αριθμοί 0-100


0	1	2	3	4	5
6	7	8	9	10	11
12	13	14	15	16	17
18	19	20	21	22	23
24	25	26	27	28	29
30	31	32	33	34	35
36	37	38	39	40	41
42	43	44	45	46	47
48	49	50	51	52	53
54	55	56	57	58	59
60	61	63	64	65	66
67	68	69	70	71	72
73	74	75	76	77	78
79	80	81	82	83	84
85	86	87	88	89	90
91	92	93	94	95	96
97	98	99	100		

Συμπλήρωσε τους αριθμούς που λείπουν.


























Συμπλήρωσε τους
αριθμούς που λείπουν.

40		42		44	
	47		49		51
		54		56	
58			61		63
	65	66			69
70			73		
76		78		80	
	83		85		87
		90		92	
94			97		
100					

Γράψε τον προηγούμενο και τον επόμενο αριθμό όπως το παράδειγμα.



 <input type="text"/>	 4	 <input type="text"/>
 <input type="text"/>	 6	 <input type="text"/>
 <input type="text"/>	 12	 <input type="text"/>
 <input type="text"/>	 8	 <input type="text"/>
 <input type="text"/>	 18	 <input type="text"/>
 <input type="text"/>	 13	 <input type="text"/>
 <input type="text"/>	 24	 <input type="text"/>

Γράψε τους αριθμούς αρχίζοντας
από τον μικρότερο.



8	1	7	4	2	0



9	2	8	4	5	10



17	12	7	3	2	9

Γράψε τους αριθμούς αρχίζοντας
από τον **μεγαλύτερο**.



2	6	7	10	1	0



12	16	8	17	10	20



21	12	28	22	17	23

Αντιστοίχισε τις 2 στήλες.

28	εκατό
15	είκοσι
37	τριάντα τέσσερα
23	πενήντα
70	τριάντα επτά
80	δέκα πέντε
100	σαράντα
34	ογδόντα
20	εβδομήντα
22	είκοσι οκτώ
50	δέκα επτά
17	είκοσι δύο
40	είκοσι τρία