

Κάνε όσο πιο γρήγορα μπορείς τις πράξεις.

$1 \times 3 =$

$2 \times 3 =$

$3 \times 3 =$

$4 \times 3 =$

$5 \times 3 =$

$6 \times 3 =$

$7 \times 3 =$

$8 \times 3 =$

$9 \times 3 =$

$10 \times 3 =$

Κάνε όσο πιο γρήγορα μπορείς τις πράξεις.

$1 \times 4 =$

$2 \times 4 =$

$3 \times 4 =$

$4 \times 4 =$

$5 \times 4 =$

$6 \times 4 =$

$7 \times 4 =$

$8 \times 4 =$

$9 \times 4 =$

$10 \times 4 =$

Κάνε όσο πιο γρήγορα μπορείς τις πράξεις.

$1 \times 6 =$

$2 \times 6 =$

$3 \times 6 =$

$4 \times 6 =$

$5 \times 6 =$

$6 \times 6 =$

$7 \times 6 =$

$8 \times 6 =$

$9 \times 6 =$

$10 \times 6 =$

Κάνε όσο πιο γρήγορα μπορείς τις πράξεις.

$1 \times 6 =$

$2 \times 6 =$

$3 \times 6 =$

$4 \times 6 =$

$5 \times 6 =$

$6 \times 6 =$

$7 \times 6 =$

$8 \times 6 =$

$9 \times 6 =$

$10 \times 6 =$

Κάνε όσο πιο γρήγορα μπορείς τις πράξεις.

$$\begin{aligned}8 \times 9 &= \\7 \times 6 &= \\5 \times 6 &= \\4 \times 8 &= \\7 \times 6 &= \\8 \times 7 &= \\6 \times 4 &= \\8 \times 5 &= \\9 \times 4 &= \\9 \times 7 &= \\10 \times 5 &= \\8 \times 3 &= \\6 \times 8 &= \\10 \times 9 &= \end{aligned}$$

Κάνε όσο πιο γρήγορα μπορείς τις πράξεις.

$$\begin{aligned}8 \times 9 &= \\7 \times 6 &= \\5 \times 6 &= \\4 \times 8 &= \\7 \times 6 &= \\7 \times 8 &= \\6 \times 4 &= \\8 \times 5 &= \\9 \times 4 &= \\9 \times 7 &= \\10 \times 5 &= \\8 \times 3 &= \\6 \times 8 &= \\10 \times 9 &= \end{aligned}$$

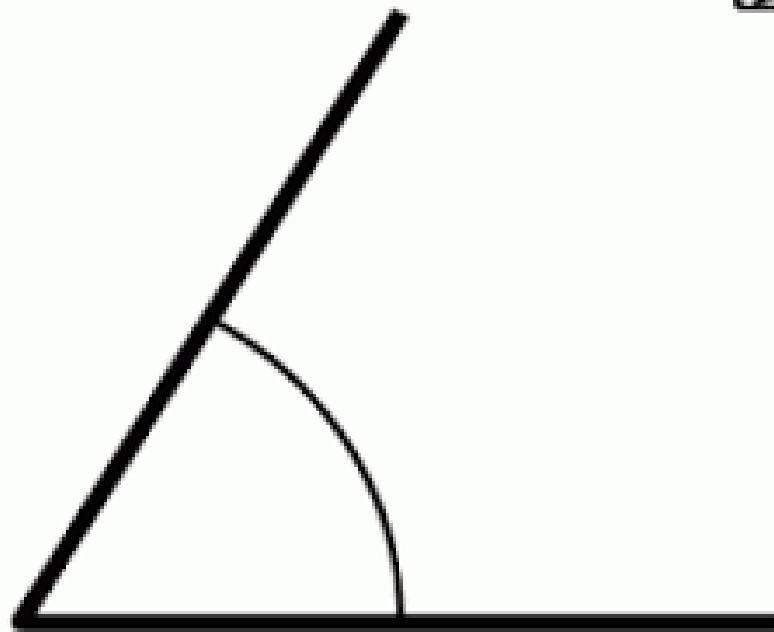
Κάνε όσο πιο γρήγορα μπορείς τις πράξεις.

$$\begin{aligned}8 \times 9 &= \\7 \times 6 &= \\5 \times 6 &= \\4 \times 8 &= \\7 \times 6 &= \\8 \times 7 &= \\6 \times 4 &= \\8 \times 5 &= \\9 \times 4 &= \\9 \times 7 &= \\10 \times 5 &= \\8 \times 3 &= \\6 \times 8 &= \\10 \times 9 &= \end{aligned}$$

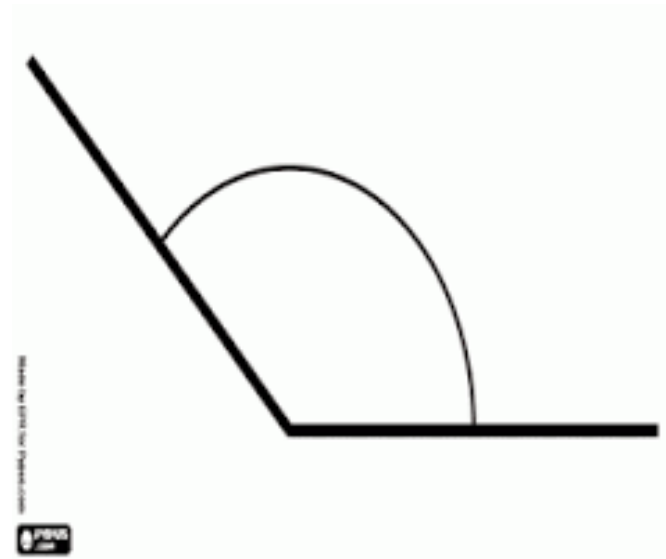
Κάνε όσο πιο γρήγορα μπορείς τις πράξεις.

$$\begin{aligned}8 \times 9 &= \\7 \times 6 &= \\5 \times 6 &= \\4 \times 8 &= \\7 \times 6 &= \\7 \times 8 &= \\6 \times 4 &= \\8 \times 5 &= \\9 \times 4 &= \\9 \times 7 &= \\10 \times 5 &= \\8 \times 3 &= \\6 \times 8 &= \\10 \times 9 &= \end{aligned}$$

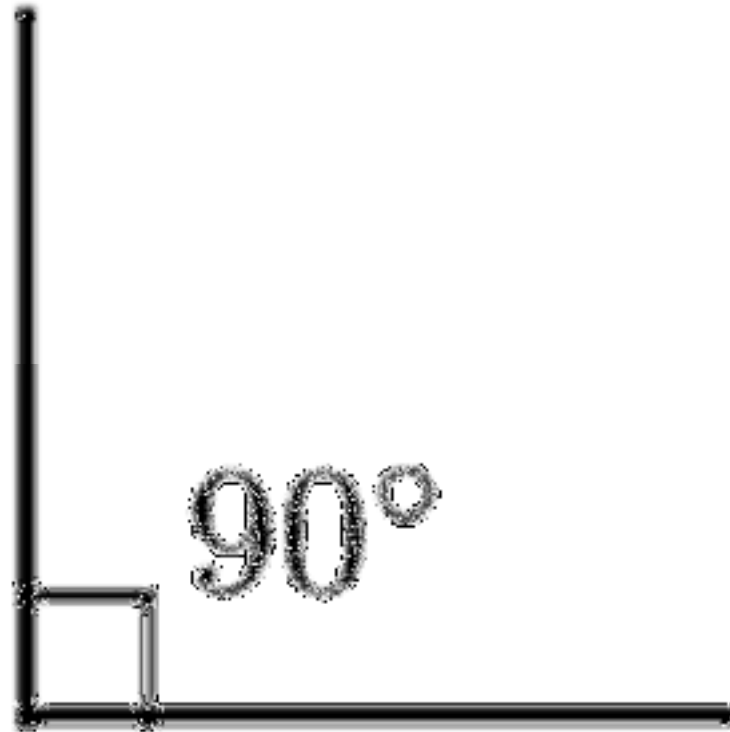
Η οξεία γωνιά είναι μικρότερη
από 90 μοίρες.



Η αμβλεία γωνιά είναι
μεγαλύτερη από 90 μοίρες.



Η ορθή γωνιά είναι 90 μοίρες





Κάνε όσο πιο γρήγορα μπορείς τις
πιο κάτω διαιρέσεις.

$36 : 6 =$

$42 : 6 =$

$63 : 7 =$

$72 : 9 =$

$40 : 8 =$

$90 : 9 =$

$32 : 8 =$

$36 : 4 =$

$35 : 5 =$

$12 : 4 =$

$18 : 9 =$

$16 : 4 =$

$20 : 5 =$

Κάνε όσο πιο γρήγορα μπορείς τις
πιο κάτω διαιρέσεις.

$36 : 6 =$

$42 : 6 =$

$63 : 7 =$

$72 : 9 =$

$40 : 8 =$

$90 : 9 =$

$32 : 8 =$

$36 : 4 =$

$35 : 5 =$

$12 : 4 =$

$18 : 9 =$

$16 : 4 =$

$20 : 5 =$

Κάνε όσο πιο γρήγορα μπορείς τις
πιο κάτω διαιρέσεις.

$36 : 6 =$

$42 : 6 =$

$63 : 7 =$

$72 : 9 =$

$40 : 8 =$

$90 : 9 =$

$32 : 8 =$

$36 : 4 =$

$35 : 5 =$

$12 : 4 =$

$18 : 9 =$

$16 : 4 =$

$20 : 5 =$

Κάνε όσο πιο γρήγορα μπορείς τις
πιο κάτω διαιρέσεις.

$36 : 6 =$

$42 : 6 =$

$63 : 7 =$

$72 : 9 =$

$40 : 8 =$

$90 : 9 =$

$32 : 8 =$

$36 : 4 =$

$35 : 5 =$

$12 : 4 =$

$18 : 9 =$

$16 : 4 =$

$20 : 5 =$

Τάξη Γ – Μαθητικά
Ενότητα 5 - Επαναληπτικές ασκήσεις

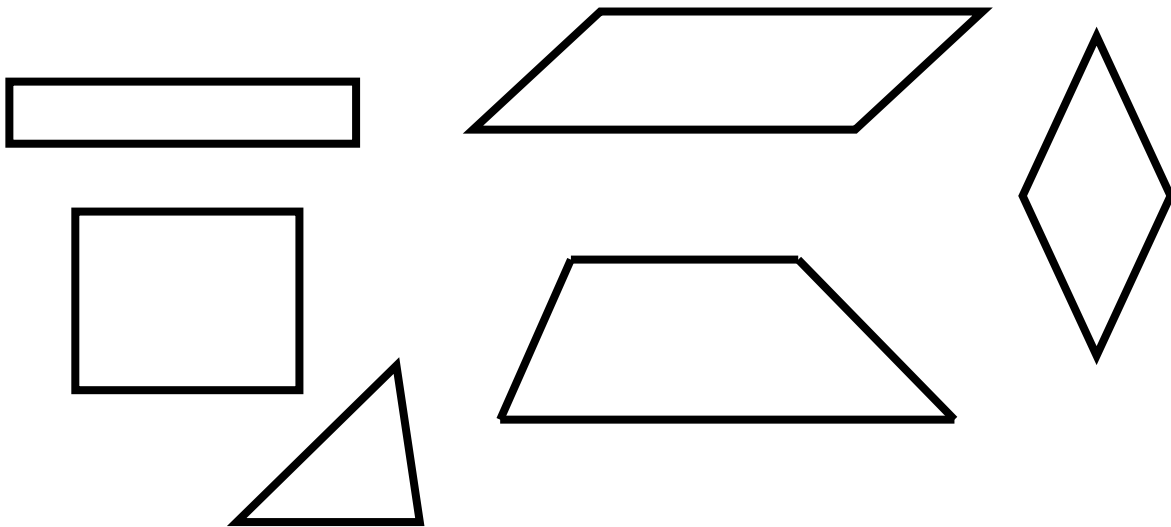
Όνομα:

1) Στα πιο κάτω σχήματα να χρωματίσεις με:

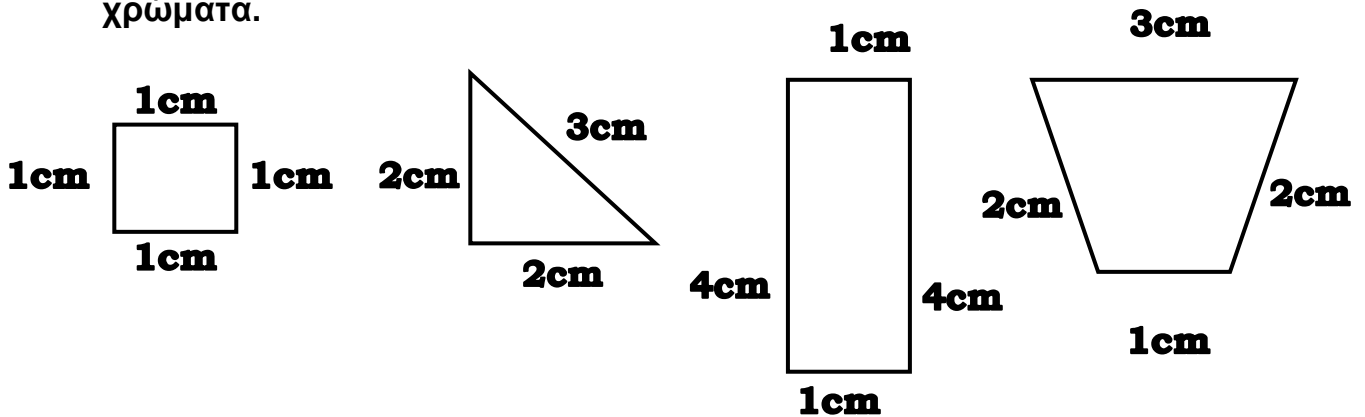
κόκκινο τις ορθές γωνιές

μπλε τις οξείες γωνιές

πράσινο τις αμβλείες γωνιές



2) Διάβασε τις πληροφορίες και χρωμάτισε τα σχήματα με τα σωστά χρώματα.




- Χρωμάτισε κόκκινο το σχήμα που έχει μία ορθή γωνία.
- Χρωμάτισε γαλάζιο το σχήμα που έχει περισσότερες από δύο ορθές γωνίες και όλες του τις πλευρές ίσες μεταξύ τους.
- Χρωμάτισε πράσινο το σχήμα που δεν έχει καμία ορθή γωνία.
- Χρωμάτισε κίτρινο το σχήμα που έχει τέσσερις ορθές γωνίες , αλλά δεν είναι τετράγωνο .

3) Να κατασκευάσεις μέσα στα κουτιά :


α) ένα ορθογώνιο τρίγωνο



β) ένα αμβλυγώνιο τρίγωνο



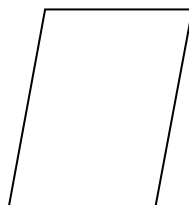

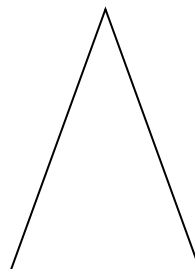
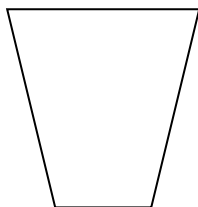
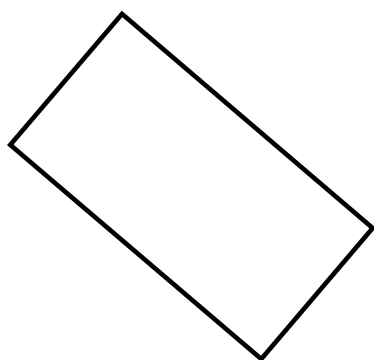
γ) ένα οξυγώνιο τρίγωνο



δ) ένα παραλληλόγραμμο



4) Να χρωματίσεις όλα τα παραλληλόγραμμα σχήματα:



ΣΤΡΟΓΓΥΛΕΜΑ ΑΡΙΘΜΩΝ

Αριθμός	Στρογγύλεμα στην πλησιέστερη δεκάδα	Στρογγύλεμα στην πλησιέστερη εκατοντάδα
89		
147		
267		
780		
572		
888		
92		
912		
421		
719		
673		
169		
1234		
4765		
6543		