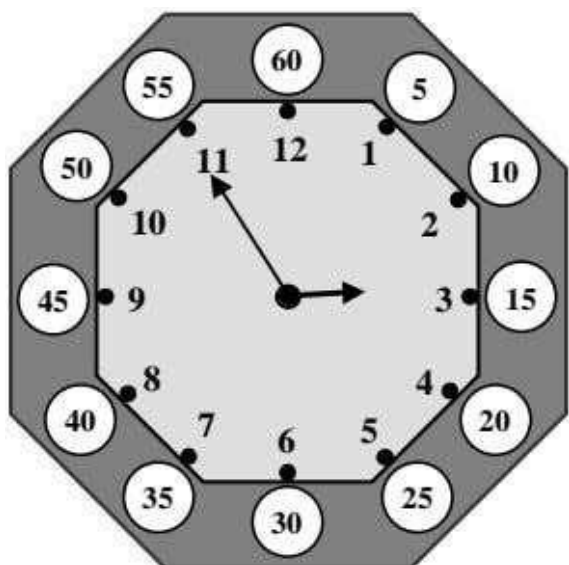


Όνομα: Ημερομηνία:

Ώρα: Τα πολλαπλάσια του 5



Θυμάμαι ότι:

Ο **λεπτοδείκτης** (δηλαδή ο μεγάλος δείκτης που δείχνει τα λεπτά) «λέει» την **προπαίδεια του 5:**


5, 10, 15, 20, 25, 30,

35, 40, 45, 50, 55, (60).



και μισή

ακριβώς

Τι ώρα είναι;



3 : 00



Προσοχή! Η Ανακατωσούρα προσπαθεί να σε μπερδέψει!

Σε άλλα ρολόγια έσβησε την ώρα και σε άλλα τους δείκτες...

Γράψε την ώρα ή ζωγράφισε τους δείκτες στα ρολόγια:



2:20		4:25	
12:30		9:35	
	3:40		5:00
7:35		12:50	