




Ας παίξουμε!

x5

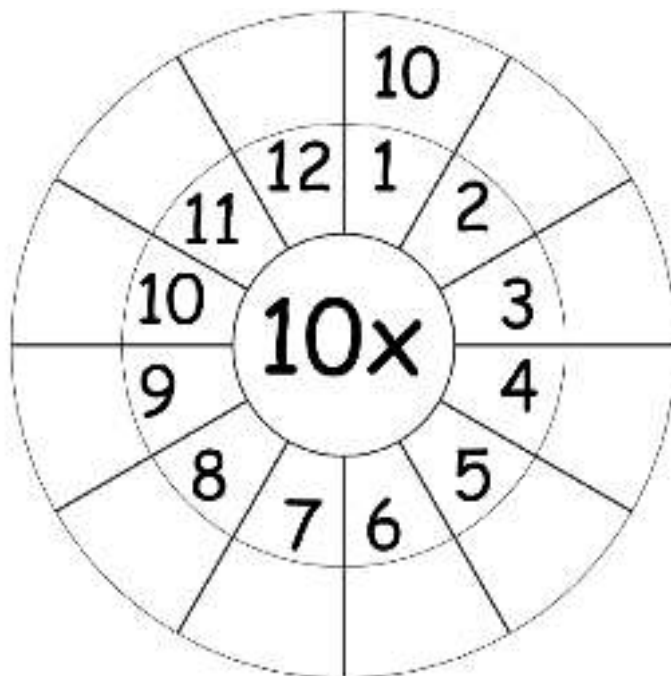
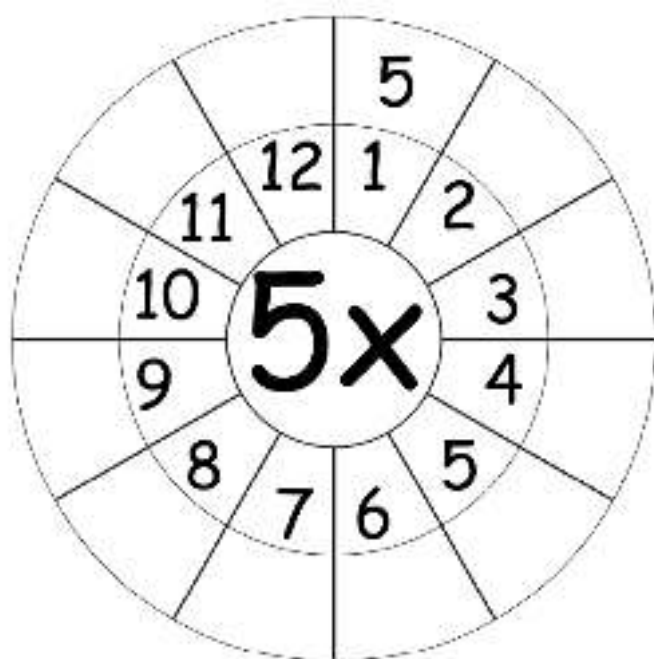
Οδηγίες: Χρειάζεστε 1 ζάρι και 2 πόνια, ένα για κάθε παίχτη. Ρίχνετε το ζάρι εναλλάξ. Στο πηαίσιτο που θα βρεθείτε έχει ένα πολλαπλασιαστό του 5. Πρέπει να βρείτε ποια δύο αριθμοί πρέπει να πολλαπλασιαστούν για να έχετε αυτό το αποτέλεσμα. Όποιος δεν το βρει σωστά, χάνει τη σειρά του. Κερδίζει ο παίχτης που θα τερματίσει πρώτος.



Όνομα: Ημερομηνία:

Εξάσκηση στην προπαίδεια του 5 και του 10

1. Πολλαπλασίασε τους αριθμούς με τον αριθμό στο κέντρο:



2. Κάνε τις παρακάτω πράξεις:

$4 \times 5 =$ _____
 $5 \times 4 =$ _____

$6 \times 5 =$ _____
 $5 \times 6 =$ _____

$8 \times 5 =$ _____
 $5 \times 8 =$ _____

$12 \times 5 =$ _____
 $5 \times 12 =$ _____

$3 \times 10 =$ _____
 $10 \times 3 =$ _____

$7 \times 10 =$ _____
 $10 \times 7 =$ _____

$6 \times 10 =$ _____
 $10 \times 6 =$ _____

$9 \times 10 =$ _____
 $10 \times 9 =$ _____


3. Κάνε τις πράξεις στα κόκαλα:

Λύνω με προσοχή.

Όνομα: _____

10

5



9 x 10 =

7 x 5 =

6 x 5 =

8 x 5 =

4 x 5 =

7 x 10 =

5 x 10 =

9 x 5 =

3 x 5 =

8 x 5 =

7 x 5 =

8 x 10 =

4 x 5 =

5 x 5 =

3 x 5 =

6 x 10 =

☺ ☹ ☹

4. Λύσε τα προβλήματα:

Α. Η μέλισσα έχει 6 πόδια. Πόσα πόδια έχουν οι 5 μέλισσες:



Λύση:

Απάντηση: _____

Β. Για να φτιάξει ένα κολιέ η Αγγελική σε κάθε κλωστή βάζει 10 χάντρες. Πόσες χάντρες χρειάζεται για να φτιάξει 4 κολιέ;



Λύση:

Απάντηση: _____



Μπράβο!

Έκανες καλή δουλειά!

Κ. Βαλεντίνα